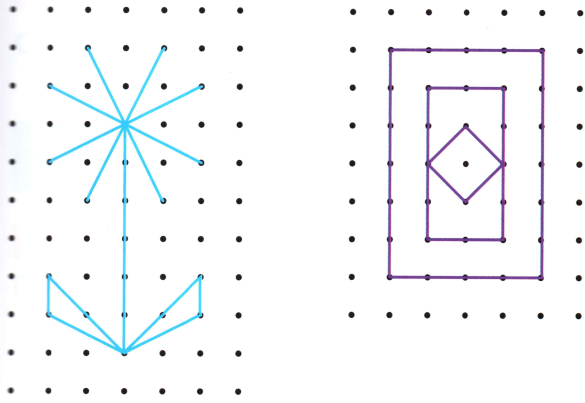
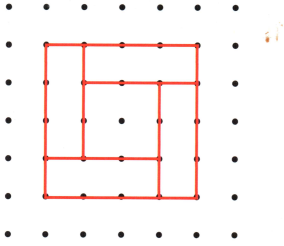
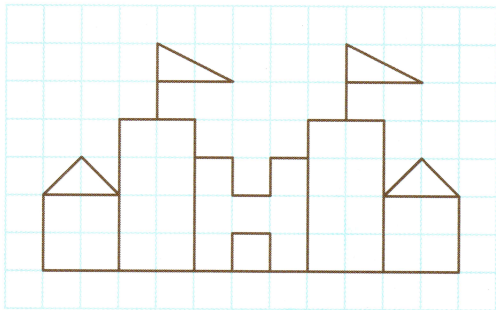



2 * Reproduis les figures sur du papier pointé.



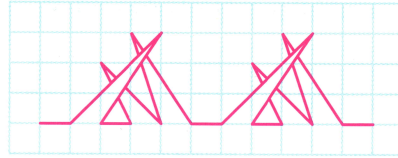
3 * Reproduis la figure sur du papier quadrillé.



4 * Reproduis la figure sur du papier pointé.

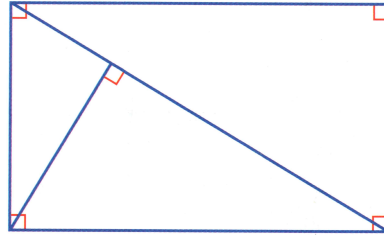


5 * Reproduis et continue la frise sur du papier quadrillé.



Reproduire des figures sur du papier uni

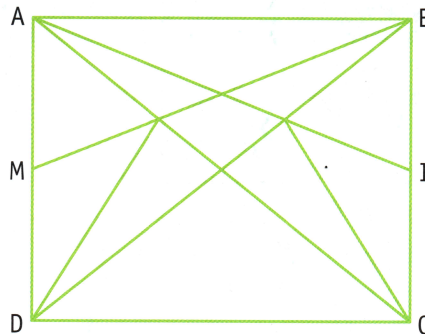
6 * Reproduis la figure sur du papier uni.



7 * Reproduis la figure sur du papier uni en t'aidant des indications.



ABCD est un rectangle. $AB = 5 \text{ cm}$; $BC = 4 \text{ cm}$.
M est le milieu de [AD]. I est le milieu de [BC].



DÉFI MATHS

Reproduis cette étoile sur du papier pointé et colorie-la.

