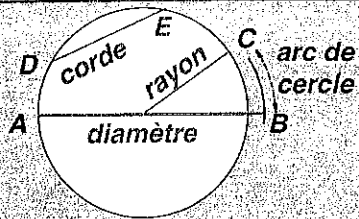


# Soutien 53

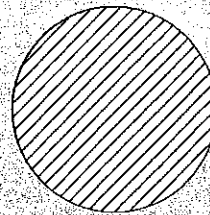


## GÉOMÉTRIE

Objectif spécifique  
Cercle et disque.



Cercle



Disque




Marque un point  $O$  sur la feuille puis trace les cercles de centre  $O$  et de rayons 2 cm, 3 cm et 4 cm.

53.1.

.....  
3

Trace :  
un diamètre  $AB$ ,  
un rayon  $OE$ ,  
une corde  $GH$ .



53.2.

.....  
3