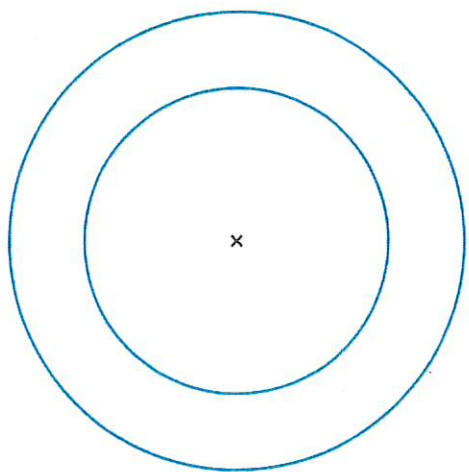


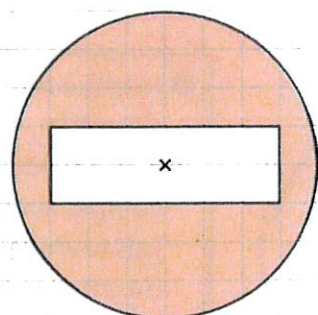
Tracer et reproduire un cercle

- 2** ✦ À l'aide de ton compas, trace :
- a. un cercle de centre O et de 7 cm de rayon ;
 - b. un cercle de centre S et de 4 cm de rayon ;
 - c. un cercle de centre Z et de 12 cm de diamètre.

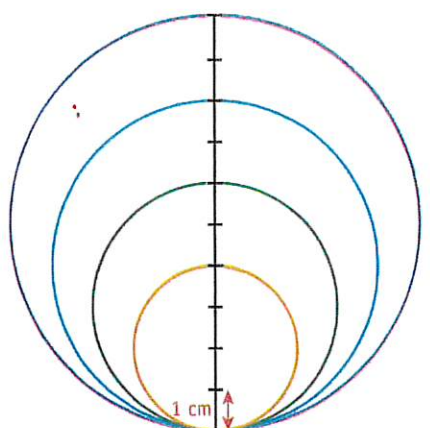
3 ✦ Reproduis les cercles.



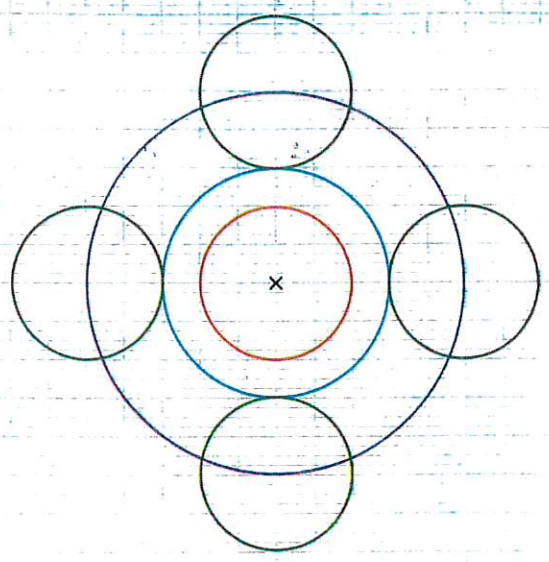
4 ✦ Reproduis le panneau routier.



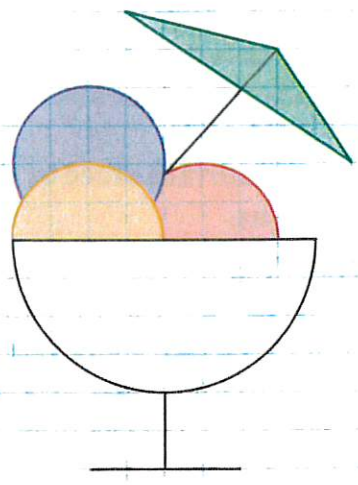
5 ✦ Reproduis la figure.



6 ✦ Reproduis la figure.



7 ✦ ✦ ✦ Reproduis la figure.



DÉFI MATHS

Sers-toi des informations en couleur pour reproduire cette pomme.

