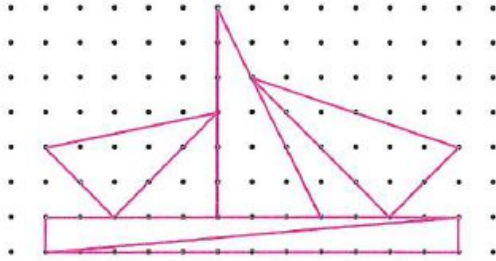


Georges a son entraînement à 9 heures du matin. Il lui faut 5 minutes pour aller de sa maison à l'arrêt de bus. Un bus part à 8 h puis il en part un toutes les 30 minutes. Le trajet en bus dure 15 minutes. Ensuite, il lui faut 5 minutes pour arriver sur son lieu d'entraînement. Quel est le dernier moment auquel il peut partir pour être à l'heure à son entraînement ?


**3** ✳ Reproduis les triangles sur du papier pointé.



**4** ✳ En te servant des points rouges, trace trois triangles rectangles.

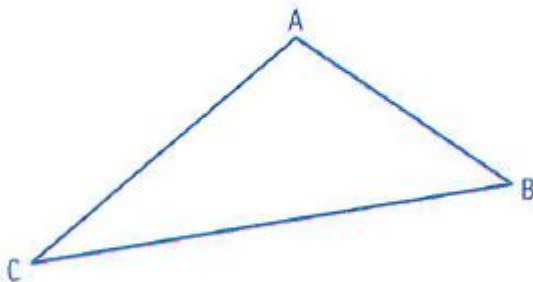


### Papier pointé (5 mm)



**5** ✳ Éléonore a répondu à la consigne suivante :

Trace un triangle ABC, rectangle en A, tel que  $AB = 3$  cm et  $AC = 4$  cm.



Éléonore a-t-elle bien respecté la consigne ? Justifie ta réponse. Trace le triangle demandé sur ton cahier.