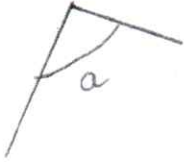


Grandeurs et mesures

**Objectif :** estimer et vérifier en utilisant l'équerre, qu'un angle est droit, aigu ou obtus.


Écris sous l'angle la bonne réponse (entre angle droit, angle aigu ou angle obtus).



angle obtus



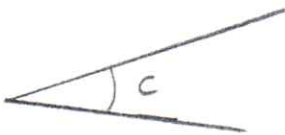
angle aigu




angle obtus



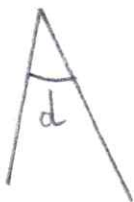
angle droit




angle aigu



angle aigu



angle aigu



angle obtus