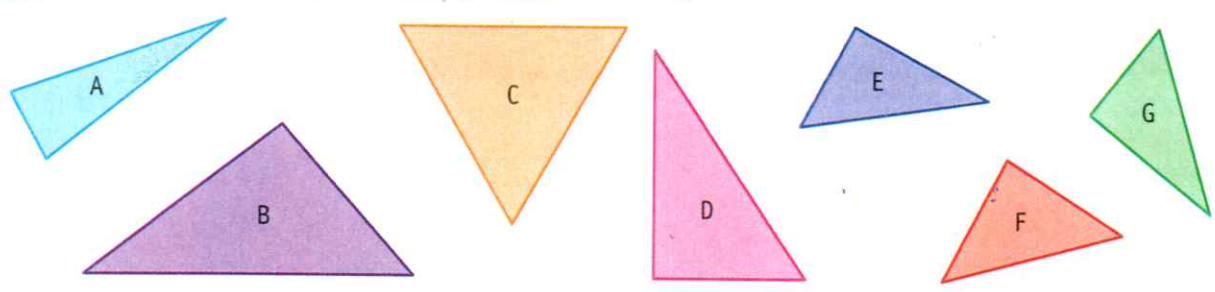
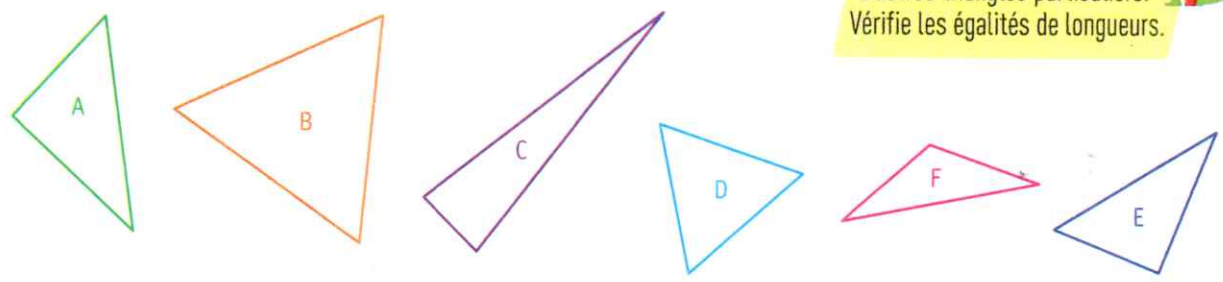


2 * Retrouve les triangles rectangles parmi ces figures.



3 * Retrouve les triangles qui ne sont pas des triangles rectangles parmi ces figures.



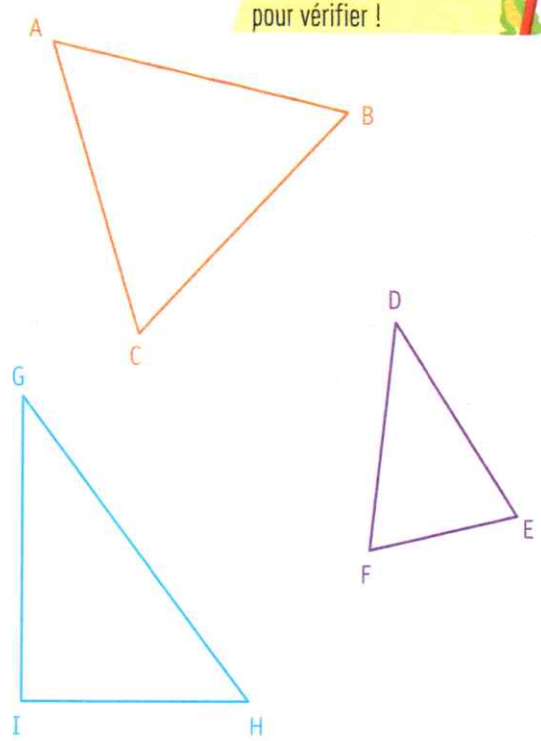
N'oublie pas, il existe d'autres triangles particuliers. Vérifie les égalités de longueurs.



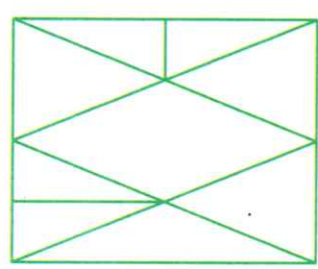
Décrire et nommer le triangle

4 * a. Décris les 3 triangles en utilisant les mots côtés et angles.

Utilise tes instruments pour vérifier !



5 a. Combien de triangles cette figure comprend-elle ?



b. Choisis deux triangles de cette figure, colorie-les et décris-les en utilisant les mots côté et angle.

DÉFI MATHS

Décalque ce triangle isocèle. Découpe-le en deux triangles rectangles pour former un autre triangle isocèle, différent du premier.

b. Indique lequel est un triangle rectangle.