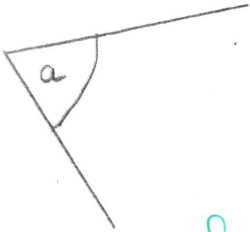


Grandeurs et mesures

Objectif : estimer et vérifier en utilisant l'équerre, qu'un angle est droit, aigu ou obtus.


Ecris sous l'angle la bonne réponse (entre angle droit, angle aigu ou angle obtus).



angle aigu



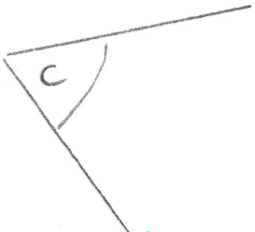
angle obtus




angle aigu



angle obtus




angle aigu



angle aigu



angle aigu



angle aigu