


Grandeurs et mesures

Objectif : estimer et vérifier en utilisant l'équerre, qu'un angle est droit, aigu ou obtus.


Ecris sous l'angle la bonne réponse (entre angle droit, angle aigu ou angle obtus).



angle obtus



angle aigu



angle aigu




angle droit




angle obtus



angle obtus



angle aigu



angle droit